

בחן מס' 3

1 חשבו את הגימטריה של כל מלה.



א לביא = _____ ב כלב = _____ ג איל = _____

דף עבודה 37: המספרים הטבעיים עד 1,000 – גימטריה – 1.

2 פתרו את תרגיל החסור ובדקו את תשובתכם בעזרת חבור מתאים.



$$\underline{\quad} + 15 = 58$$

$$\begin{array}{r} 58 \\ - 15 \\ \hline \\ \hline \end{array}$$

דף עבודה 38: פעולות חשבון במספרים הטבעיים בתחום ה-100 – חבור וחסור כפעולות הפוכות.

3 כתבו שני תרגילי חבור שונים, שתוצאתם הסכום הנתון.

א $\underline{\quad} + \underline{\quad} = 17$ ב $\underline{\quad} + \underline{\quad} = 25$

א $\underline{\quad} + \underline{\quad} = 17$ ב $\underline{\quad} + \underline{\quad} = 25$

דף עבודה 39: פעולות חשבון במספרים הטבעיים בתחום ה-100 – משוואות.

4 השלימו.



א $\underline{\quad} + 40 = 40$ ב $40 - 40 = \underline{\quad}$ ג $49 - \underline{\quad} = 0$

דף עבודה 40: פעולות חשבון במספרים הטבעיים בתחום ה-1000, חבור וחסור כפעולות הפוכות.

5 מבלי לחשב, השלימו עם הסימן המתאים.

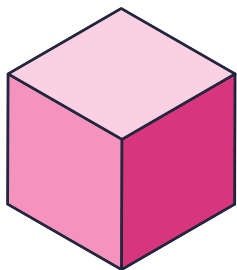



א $65 + 7 \underline{\quad} 65 + 4$ ב $73 - 10 \underline{\quad} 73 - 5$


דף עבודה 41: פעולות חשבון במספרים הטבעיים בתחום ה-100 – אמדן תוצאות.

לקביה יש ___ פאות, ___ קדקודים ו-___ צלעות.

דף עבודה 42: גאומטריה - גופים - הקביה.



יצוג:



7 בעז הכין 8 עוגיות בטעם וניל ו-9 עוגיות בטעם שוקולד.

כמה עוגיות הכין בעז בסך הכל?

החשוב: _____

התשובה: _____

הבדיקה: _____



דף עבודה 43: פתרון בעיות - פתרון בעיות מלוויות - עקרונות.

8 לגילי 40 ש"ח. היא רוצה לקנות משחק שעולה 75 ש"ח.

כמה כסף חסר לה כדי לקנות את המשחק?

הפעלה: _____

החשוב: _____

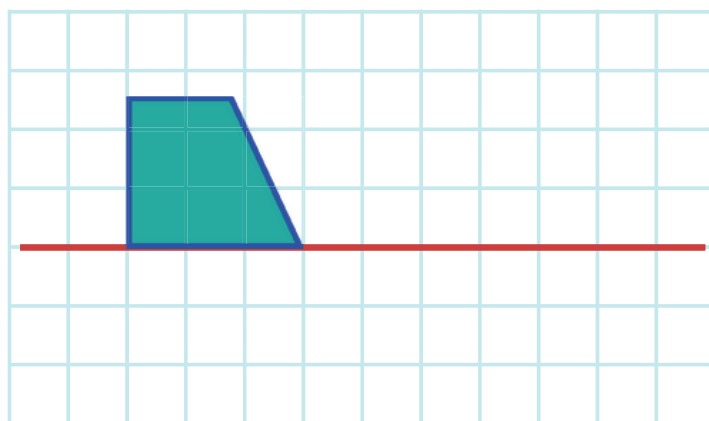
התשובה: _____

הבדיקה: _____



דף עבודה 44: פתרון בעיות - כסף - בעיות חבר וחסור.


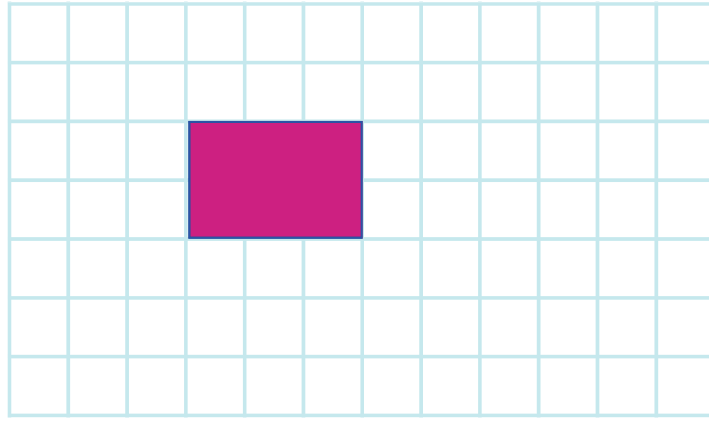
9 צירו הזזה של הצורה על הציר.



דף עבודה 45: גאומטריה - הזזה - 1.



10 צירו הזזה של המלבן 3 משבצות ימינה ו-2 משבצות למטה.



דף עבודה 46: גאומטריה – הזזה – 2.

11 רפי קונה מכנסים ב-70 ש"ח. יש לו שטרות של 50 ש"ח ושל 20 ש"ח, ומטבעות של 10 ש"ח. מצאו שתי דרכים שונות כדי לשלם את המכנסים. בכל אחת מהדרכים, צירו את השטרות ואת המטבעות הדרושים.

דרך א'

יצוג:



דרך ב'

יצוג:



החשוב: 70 = _____

החשוב: 70 = _____



דף עבודה 47: פתרון בעיות – שמושים במספרים דו-ספרתיים.

12 השלימו עם הסימן המתאים.

40+20 ____ 40+10 א

15+15 ____ 20+20 ב



דף עבודה 48: פעולות חשבון במספרים הטבעיים בתחום ה-100 – השוואת בטויים.

13 חשבו את המכפלה.

8X2 = ____ א

9X2 = ____ ב

6X2 = ____ ג



דף עבודה 49: פעולות חשבון במספרים הטבעיים בתחום ה-100 – לוח הכפל של 2.



14 חשבו את המכפלה.




1 $8 \times 3 = \underline{\quad}$

ב $5 \times 3 = \underline{\quad}$

א $3 \times 3 = \underline{\quad}$

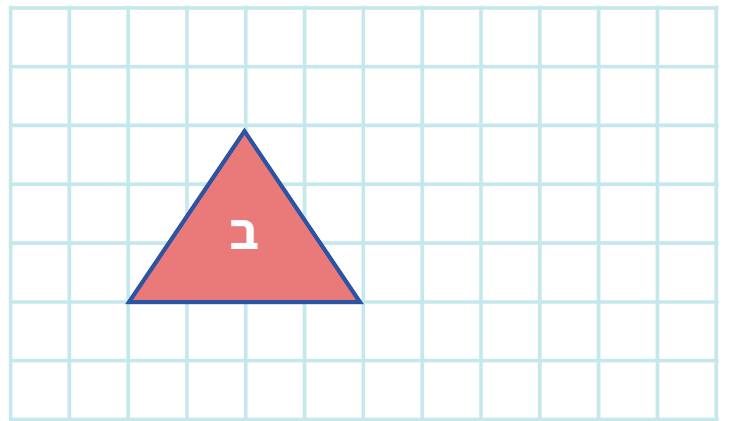
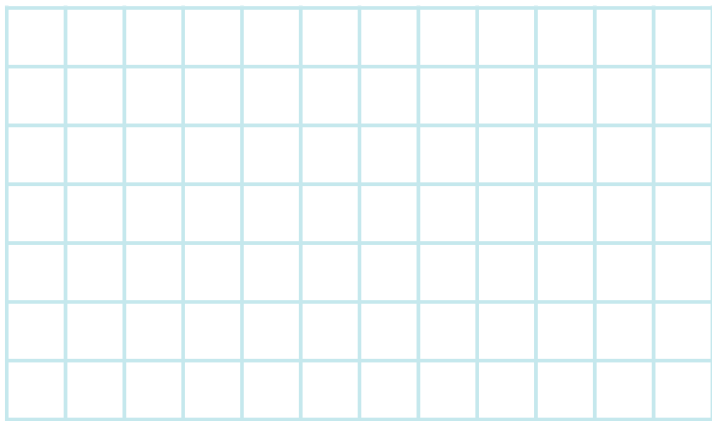
דף עבודה 50: פעולות חשבון במספרים הטבעיים בתחום ה-100 – לוח הכפל של 3.

15 צבעו את השטח של הצורות שיש להן שטח.




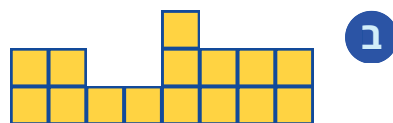
דף עבודה 51: מדידות – השטח – השואת שטחים.

16 צירו צורה ששטחה גדול מצורה ב.



דף עבודה 51: מדידות – השטח – השואת שטחים.

17 השתמשו ביחידת שטח וכתבו את השטח של כל צורה.


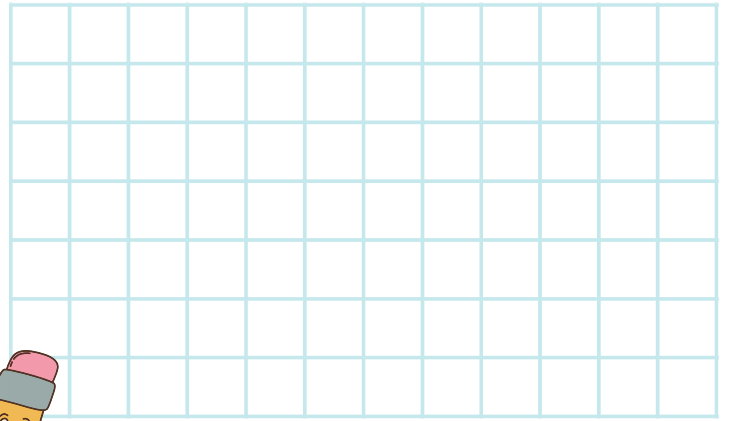
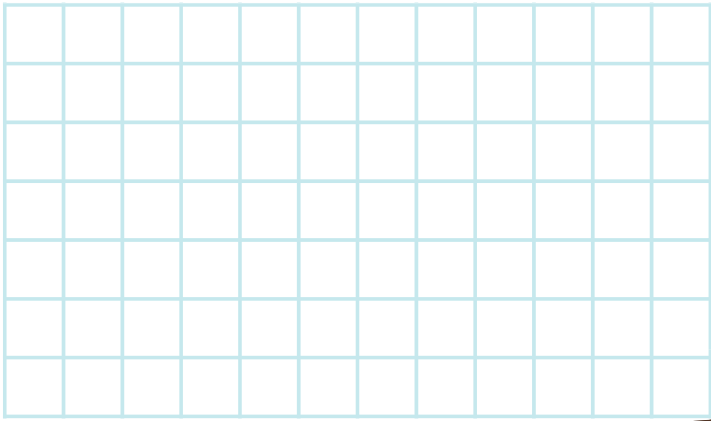


דף עבודה 52: מדידות – מדידת שטח.



א

ב



דף עבודה 52: מדידות – מדידת שטח.


19

ליאב קיבל 5 קפסאות של 4 כדורי פינג-פונג כל אחת.

כמה כדורים קיבל ליאב בסך הכל?

התרגיל:



התשובה: _____



דף עבודה 53: פעולות חשבון במספרים הטבעיים בתחום ה-100 – לוח הכפל של 4.

20

חשבו את סך הכל העגולים על ידי תרגילי כפל.



___ X ___ = ___

___ X ___ = ___



דף עבודה 54: פעולות חשבון במספרים הטבעיים בתחום ה-100 – לוח הכפל של 5, עד 35.

