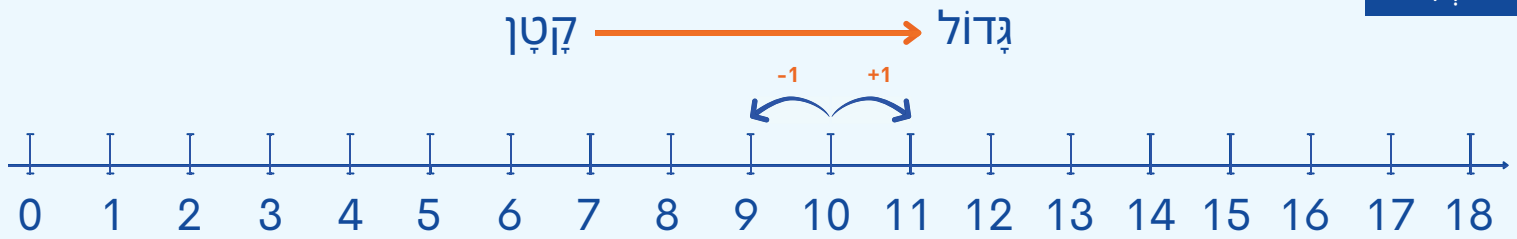


מספר עוקב, מספר קודם, השוואה, עד 18

לומדים



כשמוסיפים 1 למספר, מקבלים את המספר העוקב שלו.

$$10 + 1 = 11 \text{ - המספר העוקב של 10 הוא 11.}$$

כשמחסרים 1 ממספר, מקבלים את המספר הקודם שלו.

$$10 - 1 = 9 \text{ - המספר הקודם של 10 הוא 9.}$$

מתרגלים

1 כִּתְבוּ אֶת הַמְּסַפֵּר הָעוֹקֵב וְאֶת הַמְּסַפֵּר הַקּוֹדֵם (אֲפֹשֶׁר לְהַעֲזֹר בְּצִיר הַמְּסַפֵּרִים).

א. 10, ___

ב. 9, ___

ג. 14, ___



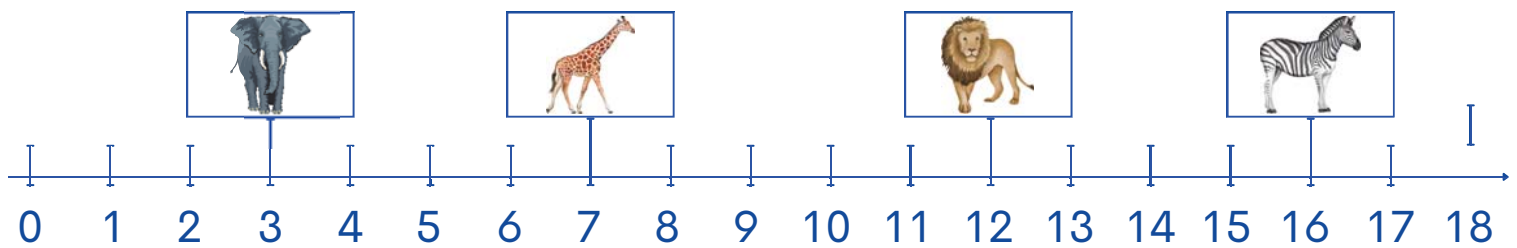
ד. 11, ___

ה. 17, ___

ו. 1, ___



2 חֲבְרוּ בֵּין כָּל חִיָּה וּבֵּין הַהֶגְדָּרָה שֶׁל הַמְּקוֹם שֶׁלָּהּ עַל צִיר הַמְּסַפֵּרִים.



אני המספר העוקב של המספר העוקב של 5

אני המספר הקודם של המספר הקודם של 5

אני המספר הקודם של 13

אני המספר העוקב של 15





גדול מ
 $12 > 8$



קטן מ
 $7 < 10$



<
קטן מ

=
שווה

>
גדול מ

זכרים

מתרגלים

1 כתבו את מספר העפרונות והשלימו עם הסימן המתאים.

מוחשי

ב

א

ד

ג



2 השלימו לפי הדגמה.

ב



א יצוגי

13 > 11





ד



ג

□

□



3 השלימו עם הסימן המתאים.



11 ○ 7 ^ג

17 ○ 14 ^ב

13 ○ 13 ^א



4 בכל תרגיל, השלימו עם שני מספרים שונים, לפי הדגמה.

___ < 10 ^ד

14 > ___ ^ג

___ < 11 ^ב

9 < 13 ^א

___ < 10

14 > ___

___ < 11

5 < 13



5 השלימו עם מספר מתאים, כש**ב**כל תרגיל אחד המספרים חייב להיות קטן מ-10 והשני גדול מ-10.

___ > ___ ^ב

___ < ___ ^א



6 הציבו וכתבו על ציר המספרים את המספר 14, המספר הקודם שלו, והמספר העוקב של המספר העוקב שלו.

